

# Tafel van 9

Naam: \_\_\_\_\_

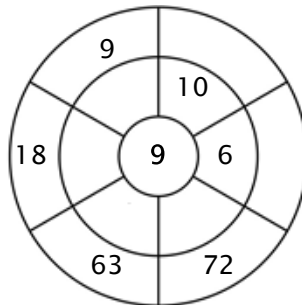
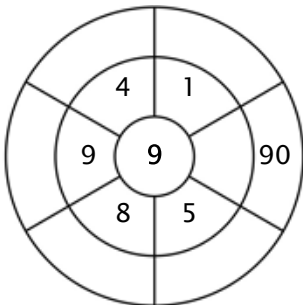
## Oefening 1:

Kleur alle blokjes in die antwoorden van deze tafel zijn.

90	65	19	45	8
63	90	85	9	63
95	72	1	27	11
81	27	18	36	36
72	79	69	3	54

## Oefening 2:

Vul de cirkels door de getallen van de middelste ring te vermenigvuldigen met het getal in het midden.



## Oefening 3:

Geef de juiste antwoorden

a)  $9 \times 9 = \underline{\quad}$

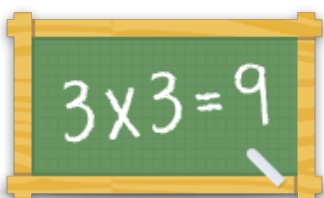
b)  $1 \times 9 = \underline{\quad}$

c)  $7 \times 9 = \underline{\quad}$

d)  $2 \times 9 = \underline{\quad}$

e)  $4 \times 9 = \underline{\quad}$

f)  $5 \times 9 = \underline{\quad}$



Voor meer werkbladen, spelletjes en oefeningen:

[www.tafeldiploma.nl](http://www.tafeldiploma.nl)