

Tafel van 8

Naam: _____

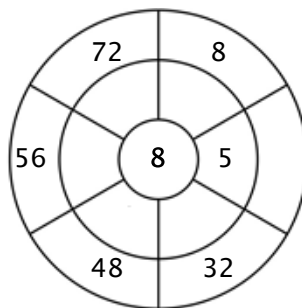
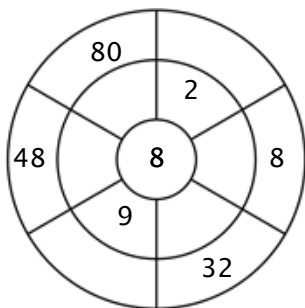
Oefening 1:

Kleur alle blokjes in die antwoorden van deze tafel zijn.

55	95	48	16	40
11	18	33	24	80
32	1	23	65	72
80	40	55	16	32
56	22	8	8	56

Oefening 2:

Vul de cirkels door de getallen van de middelste ring te vermenigvuldigen met het getal in het midden.



Oefening 3:

Geef de juiste antwoorden

a) $3 \times 8 = \underline{\quad}$

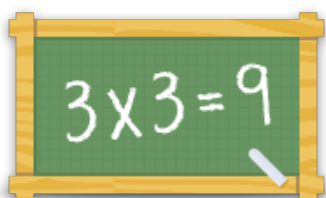
b) $9 \times 8 = \underline{\quad}$

c) $1 \times 8 = \underline{\quad}$

d) $5 \times 8 = \underline{\quad}$

e) $6 \times 8 = \underline{\quad}$

f) $7 \times 8 = \underline{\quad}$



Voor meer werkbladen, spelletjes en oefeningen:

www.tafeldiploma.nl