

Tafel van 7

Naam: _____




Oefening 1:

Trek een lijn van de som naar het goede antwoord.

7×7	42	
6×7		35
9×7	63	
5×7		14
1×7	56	
4×7		70
8×7	28	
2×7		21
10×7	49	
3×7		7

Oefening 2:

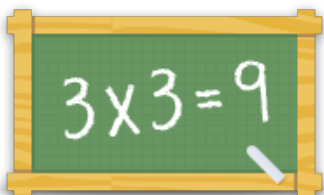
Vul het ontbrekende getal in.

a)  $\times 7 = 42$ b)  $\times 7 = 35$ c)  $\times 7 = 63$

Oefening 3:

Geef de juiste antwoorden

a) $9 \times 7 = \underline{\quad}$ b) $7 \times 7 = \underline{\quad}$ c) $6 \times 7 = \underline{\quad}$
d) $1 \times 7 = \underline{\quad}$ e) $4 \times 7 = \underline{\quad}$ f) $5 \times 7 = \underline{\quad}$



Voor meer werkbladen, spelletjes en oefeningen:

www.tafeldiploma.nl