

Tafel van 7

Naam: _____

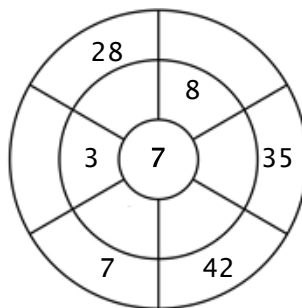
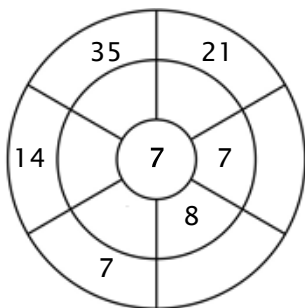
Oefening 1:

Kleur alle blokjes in die antwoorden van deze tafel zijn.

7	7	56	22	44
19	21	33	14	3
56	14	42	33	65
49	1	28	35	35
42	28	3	86	9

Oefening 2:

Vul de cirkels door de getallen van de middelste ring te vermenigvuldigen met het getal in het midden.



Oefening 3:

Geef de juiste antwoorden

a) $1 \times 7 = \underline{\quad}$

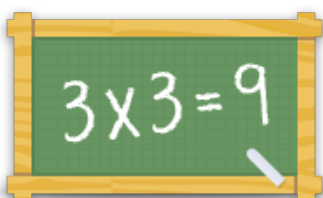
b) $3 \times 7 = \underline{\quad}$

c) $8 \times 7 = \underline{\quad}$

d) $10 \times 7 = \underline{\quad}$

e) $9 \times 7 = \underline{\quad}$

f) $5 \times 7 = \underline{\quad}$



Voor meer werkbladen, spelletjes en oefeningen:

www.tafeldiploma.nl