

Tafel van 6

Naam: _____

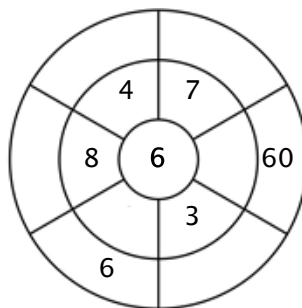
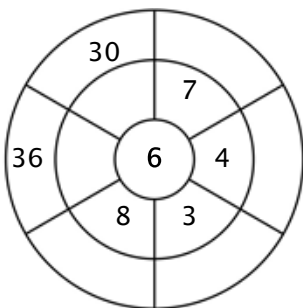
Oefening 1:

Kleur alle blokjes in die antwoorden van deze tafel zijn.

5	60	24	36	12
48	54	22	30	42
18	55	65	60	36
42	6	12	30	1
5	49	19	9	44

Oefening 2:

Vul de cirkels door de getallen van de middelste ring te vermenigvuldigen met het getal in het midden.



Oefening 3:

Geef de juiste antwoorden

a) $2 \times 6 = \underline{\quad}$

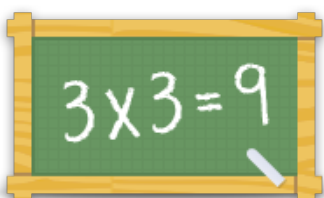
b) $8 \times 6 = \underline{\quad}$

c) $4 \times 6 = \underline{\quad}$

d) $10 \times 6 = \underline{\quad}$

e) $5 \times 6 = \underline{\quad}$

f) $6 \times 6 = \underline{\quad}$



Voor meer werkbladen, spelletjes en oefeningen:

www.tafeldiploma.nl