

Tafel van 5

Naam: _____

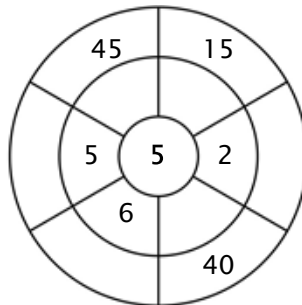
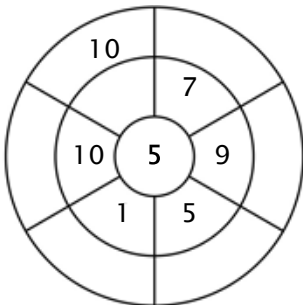
Oefening 1:

Kleur alle blokjes in die antwoorden van deze tafel zijn.

48	10	15	30	45
37	62	42	25	22
5	40	35	17	6
15	10	54	20	1
5	4	20	30	25

Oefening 2:

Vul de cirkels door de getallen van de middelste ring te vermenigvuldigen met het getal in het midden.



Oefening 3:

Geef de juiste antwoorden

a) $7 \times 5 = \underline{\quad}$

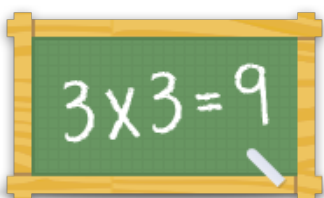
b) $3 \times 5 = \underline{\quad}$

c) $4 \times 5 = \underline{\quad}$

d) $2 \times 5 = \underline{\quad}$

e) $9 \times 5 = \underline{\quad}$

f) $10 \times 5 = \underline{\quad}$



Voor meer werkbladen, spelletjes en oefeningen:

www.tafeldiploma.nl