

Tafel van 4

Naam: _____

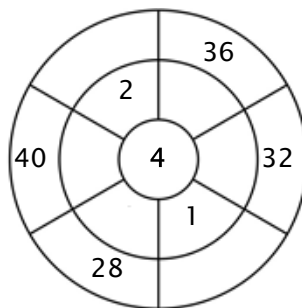
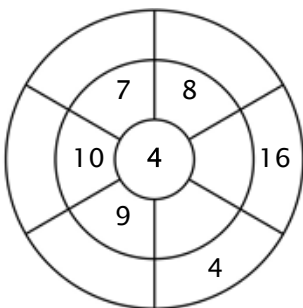
Oefening 1:

Kleur alle blokjes in die antwoorden van deze tafel zijn.

16	2	19	37	24
6	22	34	12	36
38	28	5	40	8
36	20	16	1	10
4	3	20	8	4

Oefening 2:

Vul de cirkels door de getallen van de middelste ring te vermenigvuldigen met het getal in het midden.



Oefening 3:

Geef de juiste antwoorden

a) $4 \times 4 = \underline{\quad}$

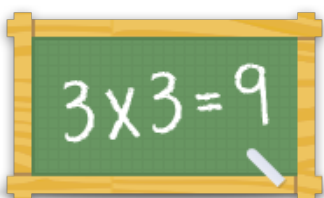
b) $8 \times 4 = \underline{\quad}$

c) $9 \times 4 = \underline{\quad}$

d) $2 \times 4 = \underline{\quad}$

e) $6 \times 4 = \underline{\quad}$

f) $1 \times 4 = \underline{\quad}$



Voor meer werkbladen, spelletjes en oefeningen:

www.tafeldiploma.nl