

Tafel van 3

Naam: _____

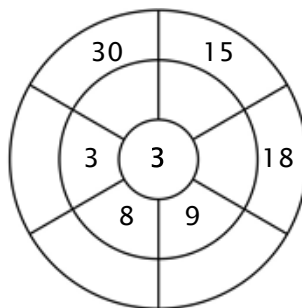
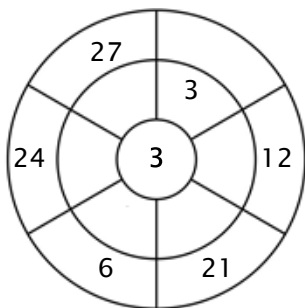
Oefening 1:

Kleur alle blokjes in die antwoorden van deze tafel zijn.

12	7	14	25	15
18	21	24	11	22
1	8	31	30	27
35	2	6	15	6
21	5	9	38	18

Oefening 2:

Vul de cirkels door de getallen van de middelste ring te vermenigvuldigen met het getal in het midden.



Oefening 3:

Geef de juiste antwoorden

a) $9 \times 3 = \underline{\quad}$

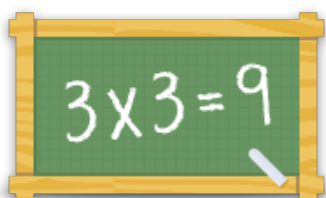
b) $1 \times 3 = \underline{\quad}$

c) $3 \times 3 = \underline{\quad}$

d) $6 \times 3 = \underline{\quad}$

e) $10 \times 3 = \underline{\quad}$

f) $4 \times 3 = \underline{\quad}$



Voor meer werkbladen, spelletjes en oefeningen:

www.tafeldiploma.nl