

Tafel van 2

Naam: _____

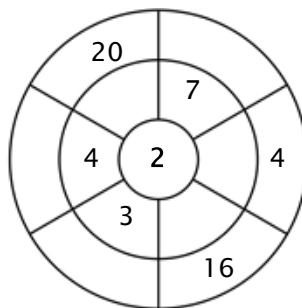
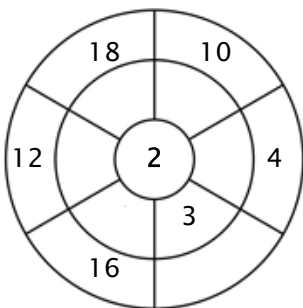
Oefening 1:

Kleur alle blokjes in die antwoorden van deze tafel zijn.

8	6	23	10	14
37	4	16	21	25
2	17	11	10	18
5	3	33	6	9
18	14	12	12	16

Oefening 2:

Vul de cirkels door de getallen van de middelste ring te vermenigvuldigen met het getal in het midden.



Oefening 3:

Geef de juiste antwoorden

a) $7 \times 2 = \underline{\quad}$

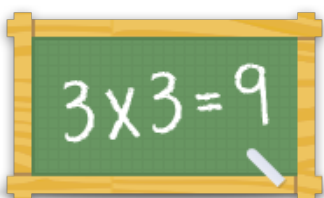
b) $6 \times 2 = \underline{\quad}$

c) $1 \times 2 = \underline{\quad}$

d) $9 \times 2 = \underline{\quad}$

e) $4 \times 2 = \underline{\quad}$

f) $3 \times 2 = \underline{\quad}$



Voor meer werkbladen, spelletjes en oefeningen:

www.tafeldiploma.nl