

Tafel van 10

Naam: _____

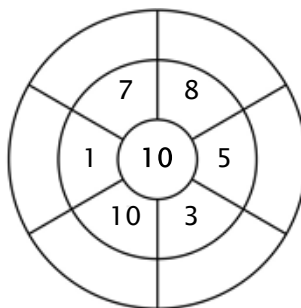
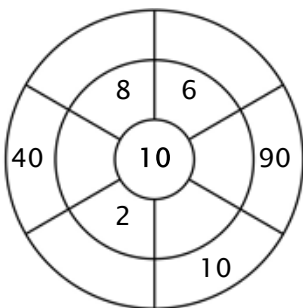
Oefening 1:

Kleur alle blokjes in die antwoorden van deze tafel zijn.

45	100	40	84	20
90	67	90	60	33
95	50	30	36	142
50	40	60	5	10
70	80	72	20	22

Oefening 2:

Vul de cirkels door de getallen van de middelste ring te vermenigvuldigen met het getal in het midden.



Oefening 3:

Geef de juiste antwoorden

a) $2 \times 10 = \underline{\quad}$

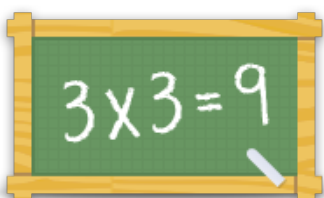
b) $5 \times 10 = \underline{\quad}$

c) $6 \times 10 = \underline{\quad}$

d) $7 \times 10 = \underline{\quad}$

e) $9 \times 10 = \underline{\quad}$

f) $10 \times 10 = \underline{\quad}$



Voor meer werkbladen, spelletjes en oefeningen:

www.tafeldiploma.nl