

# Tafel van 1

Naam: \_\_\_\_\_

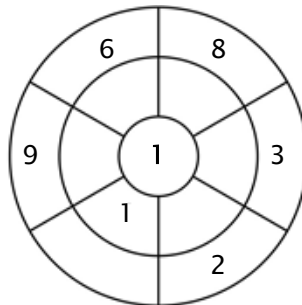
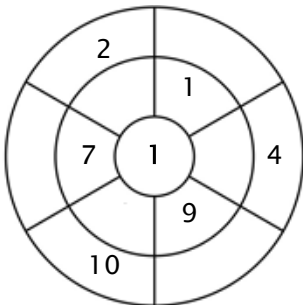
## Oefening 1:

Kleur alle blokjes in die antwoorden van deze tafel zijn.

2	28	10	1	25
8	50	7	22	14
9	7	9	5	49
15	4	6	17	33
5	2	45	1	23

## Oefening 2:

Vul de cirkels door de getallen van de middelste ring te vermenigvuldigen met het getal in het midden.



## Oefening 3:

Geef de juiste antwoorden

a)  $3 \times 1 = \underline{\quad}$

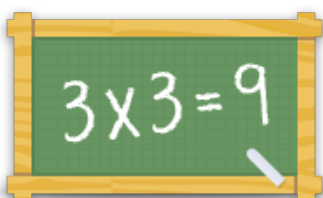
b)  $9 \times 1 = \underline{\quad}$

c)  $8 \times 1 = \underline{\quad}$

d)  $6 \times 1 = \underline{\quad}$

e)  $1 \times 1 = \underline{\quad}$

f)  $5 \times 1 = \underline{\quad}$



Voor meer werkbladen, spelletjes en oefeningen:

[www.tafeldiploma.nl](http://www.tafeldiploma.nl)